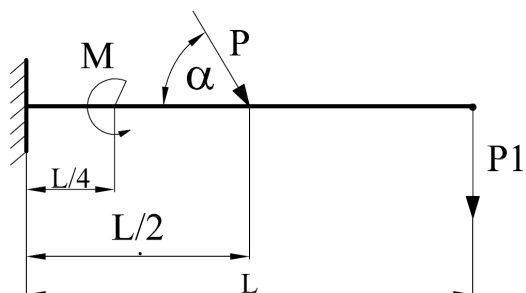


Momenty gnące i siły tnące, część I

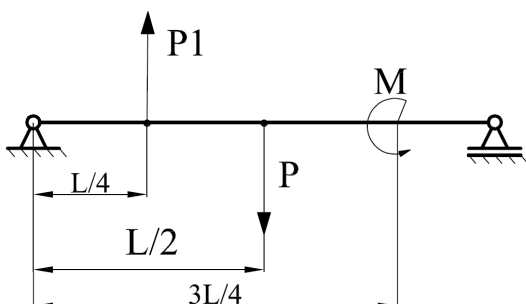
Dla przedstawionych na rysunkach układów należy wyznaczyć momenty gnące i siły tnące oraz sporządzić ich wykresy. Wszystkie belki są o długości L , których wartości podano w tabeli.

Nr zadania	P , kN	P_1 , kN	M , kNm	M_1 , kNm	M_2 , kNm	α , stopnie	L , m
1	9	6	12	-	-	50	2,6
2	7	5	5	-	-	-	3
3	12	15	9	6	-	-	3,4
4	-	7	10	5	12	-	4
5	-	15	9	14	8	-	3,6

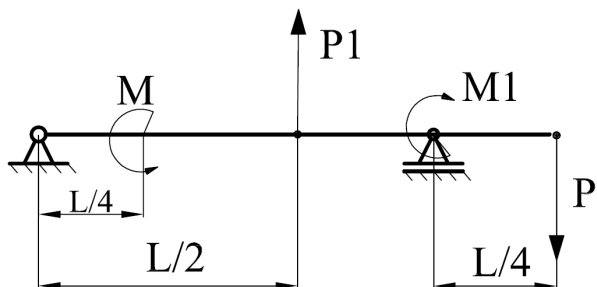
Zadanie 1.



Zadanie 2.

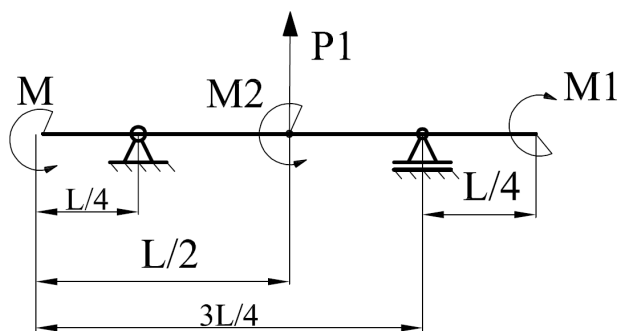


Zadanie 3.



Momenty giące i siły tnące, część I

Zadanie 4.



Zadanie 5.

